






رياضيات السنة الثانية

الخطّ المستقيم والخطّ المنحني

			
خطّ منحن مغلق	خطّ منحن مفتوح	خطّ مستقيم عمودي	خطّ مستقيم أفقي

التمرين 1 : أكمل رسم المشهد باستعمال خطوط مستقيمة وخطوط منحنية .



التمرين 2 :

قطع الكنغر مسافة متّبعاً مسالكاً مختلفة بين الأشجار .

من الشّجر أ إلى الشّجرة ب : خطّ مستقيم .

من الشّجرة ب إلى الشّجرة ج : خطّ منحن .

من الشّجرة ج إلى الشّجرة د : خطّ مستقيم .



أرسم المسلك الذي قطعه الكنغر من الشّجرة أ إلى الشّجرة ب .

أرسم المسلك الذي قطعه الكنغر من الشّجرة ب إلى الشّجرة ج .

أرسم المسلك الذي قطعه الكنغر من الشّجرة ج إلى الشّجرة د .